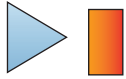


7 Vad är det för form?

Plana figurer

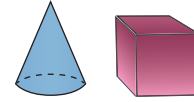


- 1 En plan figur med två långa och två korta sidor.
- 2 En plan figur med fyra lika långa sidor.
- 3 En plan figur utan hörn.
- 4 En plan figur med tre hörn.
- 5 En plan figur med fem sidor.
- 6 En plan figur med åtta sidor.






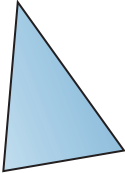
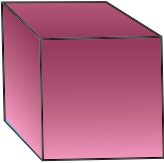

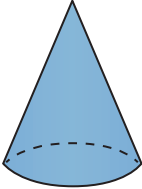
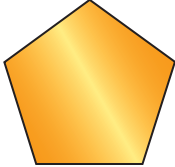
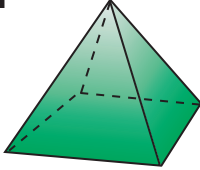

En plan figur med två långa och två korta sidor.

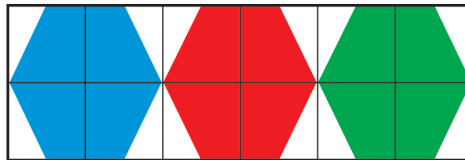


Kroppar




- 7 En kropp utan hörn eller sidor.
- 8 En kropp med sex lika stora sidor.
- 9 En kropp med sidor av kvadrater och rektanglar.
- 10 En kropp med sidor av flera trianglar och en kvadrat.
- 11 En kropp med en cirkel i botten och spetsig topp.
- 12 En rak kropp med två cirklar.

<p>1</p>  <p>kvadrat</p>	<p>2</p>  <p>oktagon</p>	<p>3</p>  <p>rätblock</p>	<p>4</p>  <p>cirkel</p>	<p>5</p>  <p>rektangel</p>	<p>6</p>  <p>triangel</p>
<p>7</p>  <p>kub</p>	<p>8</p>  <p>cylinder</p>	<p>9</p>  <p>kon</p>	<p>10</p>  <p>pentagon</p>	<p>11</p>  <p>pyramid</p>	<p>12</p>  <p>klot</p>



14 Hitta hela den symmetriska bilden!



1 	2 	3 	4 	5 	6
7 	8 	9 	10 	11 	12

