

4 Läs bråktalet och hitta rätt bild!

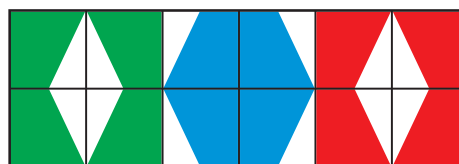
$\frac{1}{3}$



en tredjedel

1	2	3	4	5	6
$\frac{1}{3}$	$\frac{2}{3}$	$\frac{1}{4}$	$\frac{3}{4}$	$\frac{1}{5}$	$\frac{2}{5}$
7	8	9	10	11	12
$\frac{3}{5}$	$\frac{4}{5}$	$\frac{1}{8}$	$\frac{3}{8}$	$\frac{1}{10}$	$\frac{3}{10}$

1	2	3	4	5	6
tre femtedelar	tre åttondelar	två tredjedelar	två femtedelar	en femtedel	en tiondel
7	8	9	10	11	12
tre fjärdedelar	en tredjedel	fyra femtedelar	tre tiondelar	en fjärdedel	en åttondel

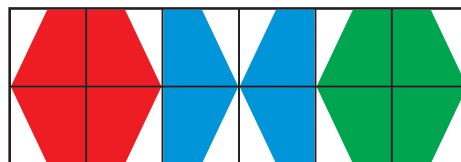


8 Hur stor del av glassarna är chokladglassar?



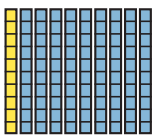
1 	2 	3 	4 	5 	6
7 	8 	9 	10 	11 	12

1 $\frac{3}{4}$	2 $\frac{1}{4}$	3 $\frac{5}{6}$	4 $\frac{2}{5}$	5 $\frac{1}{3}$	6 $\frac{4}{7}$
7 $\frac{5}{9}$	8 $\frac{1}{6}$	9 $\frac{2}{3}$	10 $\frac{1}{2}$	11 $\frac{9}{10}$	12 $\frac{4}{5}$



11 Hur stor del av tio-stavarna är gula?

$\frac{1}{10}$



en tiondel

1 $\frac{1}{10}$	2 $\frac{2}{10}$	3 $\frac{3}{10}$	4 $\frac{4}{10}$	5 $\frac{5}{10}$	6 $\frac{6}{10}$
7 $\frac{7}{10}$	8 $\frac{8}{10}$	9 $\frac{9}{10}$	10 $\frac{10}{10} = 1$	11 	12

1 två tiondelar	2 	3 en tiondel	4 fyra tiondelar	5 	6 tre tiondelar
7 åtta tiondelar	8 sex tiondelar	9 tio tiondelar = en hel	10 sju tiondelar	11 nio tiondelar	12 fem tiondelar = en halv

