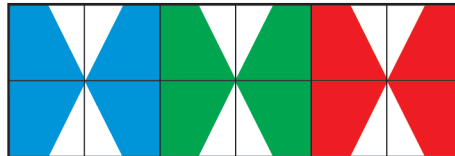


4 Multibas - Hitta rätt tal!



1 	2 	3 	4 	5 	6
7 	8 	9 	10 	11 	12

1 16	2 18	3 24	4 26	5 35	6 36
7 42	8 45	9 55	10 56	11 62	12 63




8 Vilket är talet? - ental, tiotal och hundratal

åtta ental
fyra tiotal
ett hundratal

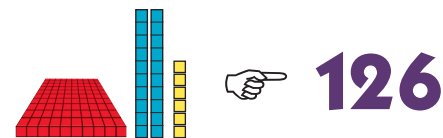
 **148**

1 åtta ental fyra tiotal ett hundratal	2 två ental nio tiotal tre hundratal	3 sex ental två tiotal sju hundratal	4 nio ental tre tiotal två hundratal	5 fyra ental fem tiotal tre hundratal	6 fem ental tre tiotal fyra hundratal
7 tre ental fyra tiotal fem hundratal	8 fyra ental ett tiotal åtta hundratal	9 två ental sju tiotal sex hundratal	10 ett ental åtta tiotal fyra hundratal	11 sju ental sex tiotal två hundratal	12 tre ental två tiotal nio hundratal

1 148	2 239	3 267	4 354	5 392	6 435
7 481	8 543	9 672	10 726	11 814	12 923




9 Multibas - Hitta rätt tal!




<p>1</p>	<p>2</p>	<p>3</p>	<p>4</p>	<p>5</p>	<p>6</p>
<p>7</p>	<p>8</p>	<p>9</p>	<p>10</p>	<p>11</p>	<p>12</p>

1 67	2 76	3 126	4 142	5 224	6 262
7 345	8 354	9 442	10 453	11 525	12 543



13 Gör ett så litet tal som möjligt!



<p>1</p>	<p>2</p>	<p>3</p>	<p>4</p>	<p>5</p>	<p>6</p>
<p>7</p>	<p>8</p>	<p>9</p>	<p>10</p>	<p>11</p>	<p>12</p>

