













# Innehållsförteckning

- 1 Vilken siffra passar till mängden?
- 2 Hur många prickar är det tillsammans?
- 3 Vilket tal kommer efter?
- 4 Vilket tal kommer före?
- 5 Vilket tal fattas?
- 6 Vilket tal fattas?
- 7 Hur mycket är klockan? (Med siffror)
- 8 Klockan. Vilken siffra har ramlat bort?
- 9 Hur mycket är klockan? (Utan siffror)
- 10 På vilket strå är det minst antal smultron?  
Hur många smultron är det på det strået?
- 11 I vilken påse finns det flest kulor?  
Hur många kulor är det i den påsen?
- 12 Vilken tröja har den högsta siffran?  
Vilken är den siffran?
- 13 Vilken pepparkaka har den lägsta siffran?  
Vilken är den siffran?
- 14 Lägg ihop kulorna i de två högarna!
- 15 Lägg ihop kulorna!
- 16 Lägg ihop två tal!
- 17 Lägg ihop tre tal!
- 18 Vilket tal fattas?
- 19 Vilket tal fattas?
- 20 Minska med ett tal!
- 21 Minska med två tal!
- 22 Vilket tal fattas?
- 23 Öka eller minska?
- 24 Dela upp 10 i två delar!
- 25 Vilket tal fattas?
- 26 Minska från 10!
- 27 Vilket tal fattas?
- 28 Blandade övningar med talet 10.

## 2 Hur många prickar är det tillsammans?

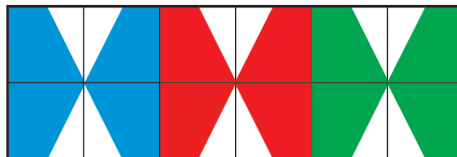
1 	2 	3 	4 	5 	6 
7 	8 	9 	10 	11 	12 



1 1	2 2	3 3	4 4	5 5	6 6
7 7	8 8	9 9	10 10	11 11	12 12


## 6 Vilket tal fattas?


1 _ 7 8	2 1 _ 3	3 2 _ 4	4 3 4 _	5 7 8 _	6 0 _ 2
7 10 _ 12	8 6 7 _	9 _ 5 6	10 10 11 _	11 9 _ 11	12 _ 8 9



1 1	2 2	3 3	4 4	5 5	6 6
7 7	8 8	9 9	10 10	11 11	12 12

## 16 Lagg ihop två tal!

1 $0+1=$	2 $1+4=$	3 $7+2=$	4 $0+0=$	5 $1+2=$	6 $4+0=$
7 $1+6=$	8 $8+2=$	9 $3+5=$	10 $5+1=$	11 $2+0=$	12 



1

0

2

1

3

2

4

3

5

4

6

5

7

6

8

7

9

8

10

9

11

10

12

